


Hudební nauka 25.11. - řešení

1. Napiš stupnici h moll, akord a popiš noty:


aiolská



akord

h cis1 d1 e1 fis1 g1 a1 h1 h, d, fis

harmonická



ais1

melodická



gis1 ais1 a1 g1

2. Napiš stupnici fis moll:

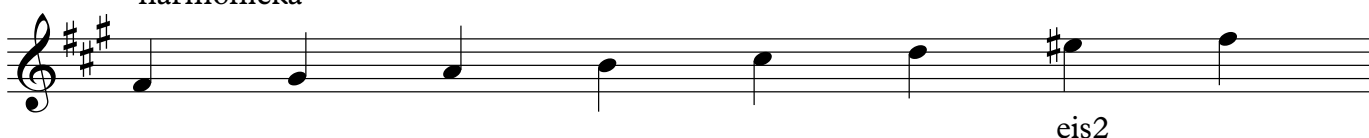
aiolská



akord


fis1 gis1 a1 h1 cis2 d2 e2 fis2 fis, a, cis

harmonická




eis2

melodická



dis2 eis2 e2 d2

3. Poznej, co je to za interval:



tercie sekunda septima prima kvarta sexta kvinta

4. Napiš intervaly od daného tónu:



oktáva kvarta septima kvinta tertie sexta sekunda