


Hudební nauka 25.11. - zadání


1. Napiš stupnici h moll, akord a popiš noty:

aiolská

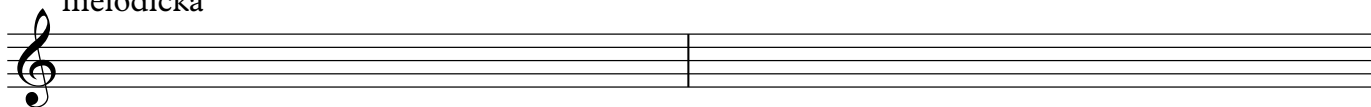
akord



harmonická



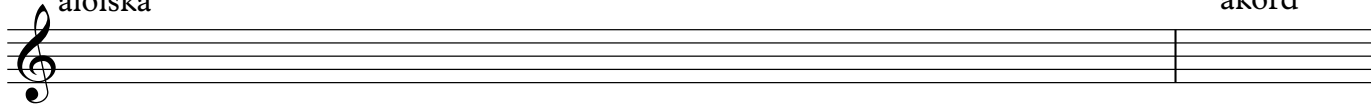
melodická




2. Napiš stupnici fis moll:

aiolská

akord



harmonická



melodická



3. Poznej, co je to za interval:



4. Napiš intervaly od daného tónu:



oktáva

kvarta

septima

kvinta

tercie

sexta

sekunda