



HN 25.11. 2.roč. - zadání


Napiš stupnici E dur, označ oba půltóny a napiš akord. Noty pojmenuj.




Napiš stupnici G dur, označ oba půltóny a napiš akord. Noty pojmenuj.



Napiš stupnici A dur, označ oba půltóny a napiš akord. Noty pojmenuj.



Napiš stupnici D dur, označ oba půltóny a napiš akord. Noty pojmenuj.



Napiš, co je to za notu a jejich délku:

